

国土の地形の特色(山地・平地)

資料集 P14,15&地図帳を参考に

問

山地や平地など、国土の地形の様子や広がりを調べよう。

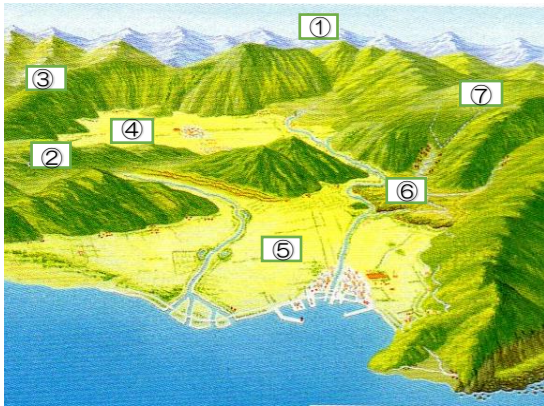
☆P16. 17の写真を見て、地形について気づいたことを書きましょう。

-
-
-

※時間のある人は、1~9の地域を地図帳で調べて○印をつけましょう。

☆P18の わくを読み、①~⑦に入る言葉を書きましょう。

問



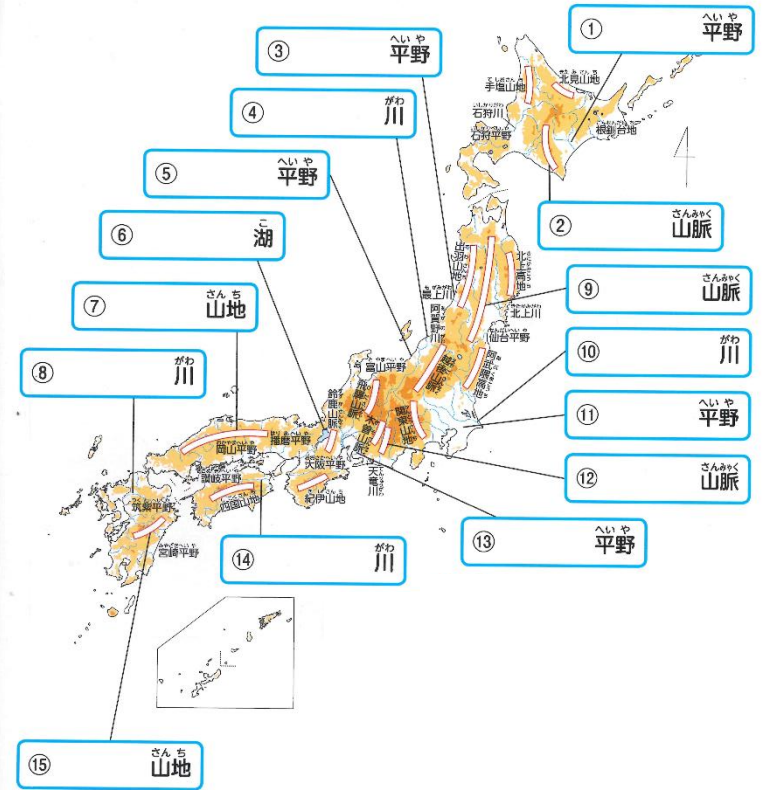
- ①
- ②
- ③
- ④
- ⑤
- ⑥
- ⑦

☆P18の ことば を書き写しましょう。日本には約1500もの火山があります

火山 _____

問

☆P19 参考にして、平野・山脈・山地等の名前を書きましょう。
(以前課題に出した作業帳4と同じ問題です。覚えているかな?)



問

☆P18の文章を読んで () に言葉を書きましょう。

• 国土のおよそ () は山地で、平地は ()。
 南北にせぼねのように高い () が連なっている。
 • 火山も多く、特に () や () などに見られる。

⑮

国土の地形の特色(川・湖)

資料集 P14,15&地図帳を参考に

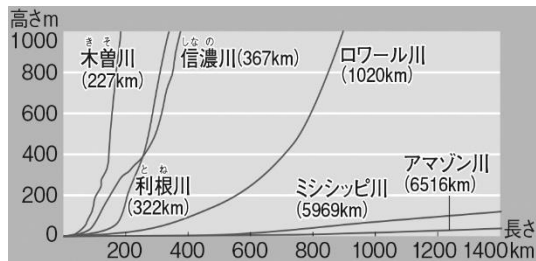
調

日本の川や湖は、どのような特色があるのか調べよう。

☆P20 ③「日本の主な川や湖」の資料を見て気づいたことを書きましょう。

-
-
-

☆P20 ⑤「世界の主な川の長さとかたむき」の資料を見て気づいたことを書きましょう。(日本の川と外国の川は、どちらが なたらかだろう。)



(気づいたこと)

☆地図帳やインターネットで調べて書きましょう。

問

大きい湖ランキング

湖の名前	都道府県名
1位	
2位	
3位	

長い川ランキング

川の名前	都道府県名
1位	
2位	
3位	

問

☆教科書や地図帳を参考にして、P21の()に名前を書きましょう。(教科書に直接記入)

ま

☆P20の文章を読んで、()に言葉を書きましょう。

- 平野には()が流れている。
- 日本の川は流れが()で、長さは()。

⑤

みなさん、毎日よくがんばっていますね。えらいです！
資料や地図を見て、調べた山、川、湖など・・・
大きくなったらぜひ行ってみましょう！

