

世界の中の国土

資料集 P12.13 & 地図帳を参考

課

世界の主な国々と日本の位置や国土について調べよう。

☆P10 **やってみよう** に取り組みましょう。

※1. 2は教科書に書きましょう。

※日本と同じ緯度や経度にある国を調べて書きましょう。(3つずつ)

日本と同じ緯度にある国

-
-
-

日本と同じ経度にある国

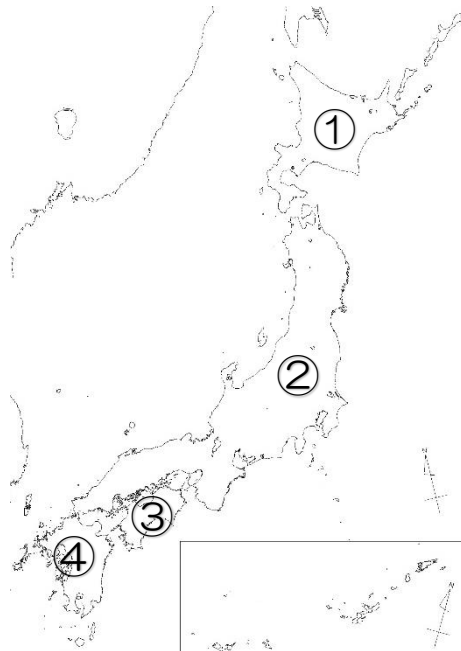
-
-
-

問

☆P13.14 を読んで、P13 **やってみよう** に取り組みましょう。

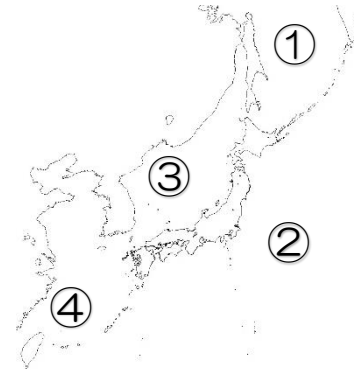
1. 主な島4つを書きましょう。

①
②
③
④



2. 日本の周りの国を調べて書きましょう。(国名と位置を確認しよう)

4~6つくらい書けると良いですね。



①
②
③
④

4. 日本の東西南北のはしの島の名前を書きましょう。



西 (島)

北緯 _____
東経 _____



南 (島)

北緯 _____
東経 _____

北 (島)

北緯 _____
東経 _____

東 (島)

北緯 _____
東経 _____



⑤

※プリントを印刷し、直接記入しても良いです。ノートに写して学習する時、地図や写真は難しいと思うので答えだけ書きましょう。(挑戦しても良いですよ!)

世界の中の国土(領土をめぐる問題)

資料集P12.13&地図帳を参考

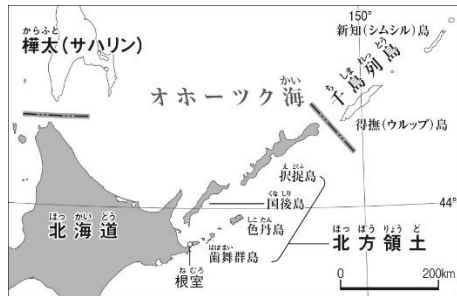
課

日本の領土のはんいはどのようにになっているのか調べよう。また、日本の国土の特色についてまとめよう。

☆P14の **ことば** を読み、下に書きましょう。

領土	
領海	
領空	

問 ☆P14 領土をめぐる問題の本文を読み、答えましょう。

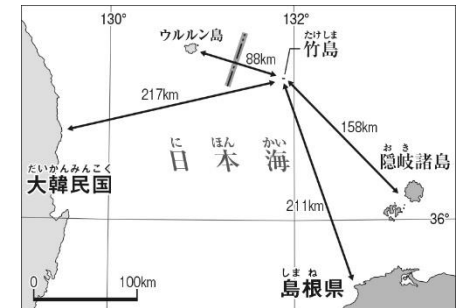


北方領土(北海道)

↳ _____ 島 _____ 島
_____ 島 _____ 島

(国名) が不法に占領している。島を返すよう求めて、交渉を続けている。

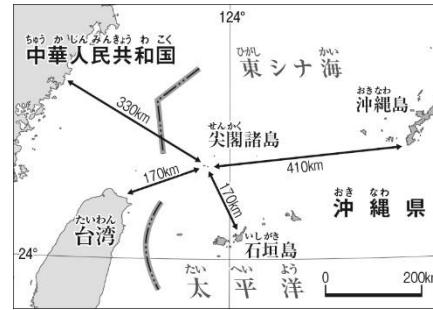
㊟



竹島() 島

(国名) が不法に占領している。日本は抗議を続けている。

㊟



尖閣諸島() 島

(国名) が領有を主張しているが、領土問題は存在しない。



☆日本の国土の特色について、まとめましょう。

※P15の口言葉を入れましょう。(教科書に直接書き込む)

☆NHK for school 「未来広告ジャパン！」

第1回「日本の国土を調べよう」を視聴しましょう。

• 日本は () 半球、および () 大陸の東に位置する。

• 日本は () に囲まれた大小の () で成り立ち、広い () をもつ国である。
